



ZÁKLADNÍ ŠKOLA KOLÍN II., KMOCHOVA 943
škola s rozšířenou výukou matematiky a přírodovědných předmětů



Autor	Mgr. Kateřina Slavičková
Číslo materiálu	10_Z_SLA_2_02
Datum vytvoření	8. 1. 2012
Druh výukového materiálu	výuková prezentace
Ročník	8.
Anotace	Výuková prezentace zaměřená na obyvatelstvo a sídla Evropy.
Klíčová slova	Evropa, obyvatelstvo, národ, jazyk, náboženství
Vzdělávací oblast	Člověk a příroda
Očekávaný výstup	popíše základní znaky obyvatelstva Evropy, vyhledá na mapě největší státy a města Evropy, pomocí mapy určí závislost rozmístění obyvatelstva na přírodních podmínkách
Zdroje a citace	list 12



EVROPA

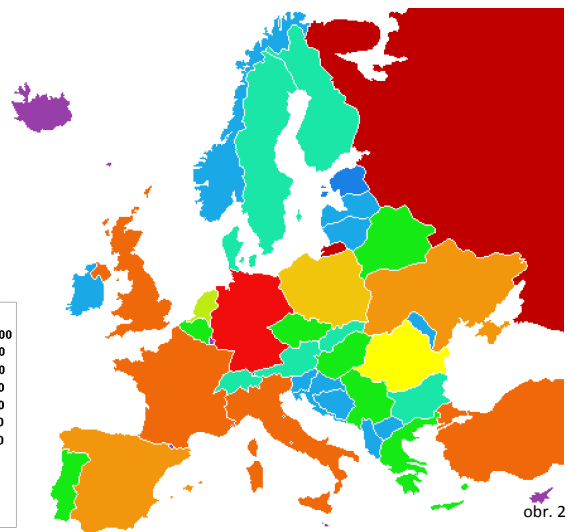
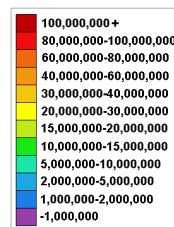
Obyvatelstvo

OBYVATELSTVO A SÍDLA

V Evropě žije přes **700 milionů obyvatel**. Podle počtu obyvatel je Evropa (po Asii a Africe) **třetím nejlidnatějším světadílem**.

(K 1. 7. 2010 žilo v Evropě 727 082 222 obyvatel.)

Evropa má ze všech světadílů **nejvyšší průměrnou hustotu zalidnění** (67 obyv./km²), nerovnoměrné osídlení mezi různými státy a oblastmi.



obr. 2

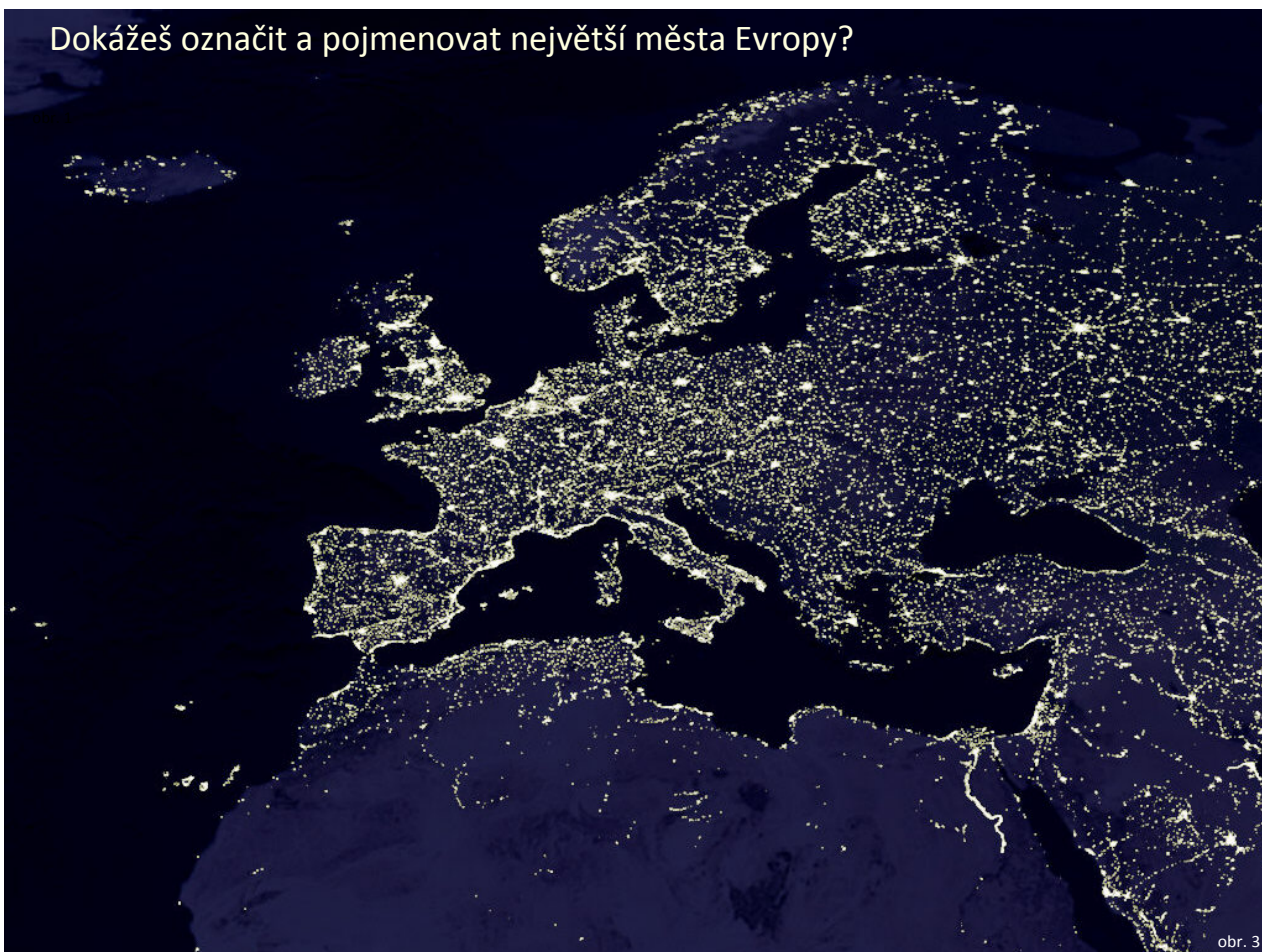
Největší města Evropy (podle počtu obyvatel):

pořadí	město	stát	počet obyvatel (2010)
1.	Moskva	Rusko	8 297 000
2.	Londýn	Spojené království	7 074 000
3.	St. Petersburg	Rusko	4 678 000
4.	Berlín	Německo	3 387 000
5.	Madrid	Španělsko	2 824 000
6.	Řím	Itálie	2 649 000
7.	Kyjev	Ukrajina	2 590 000
8.	Paříž	Francie	2 152 000
9.	Bukurešť	Rumunsko	2 016 000
10.	Budapešť	Maďarsko	1 825 000
11.	Hamburg	Německo	1 705 000
12.	Minsk	Bělorusko	1 677 000
13.	Varšava	Polsko	1 615 000
14.	Bělehrad	Srbsko	1 594 000
15.	Vídeň	Rakousko	1 540 000
23.	Praha	Česká republika	1 193 000

Ve městech žije asi 3/5 obyvatelstva.

Pro Evropu je typický pokles **přirozeného přírůstku obyvatelstva**. Evropa se stává častým cílem přistěhovalců (např. z Afriky a Asie).

Dokážeš označit a pojmenovat největší města Evropy?



















obr. 3

Největší státy Evropy (podle počtu obyvatel):

pořadí v Evropě	pořadí ve světě (2010)	stát	rozloha km ²	počet obyvatel	
				1. 7. 2009	1. 7. 2010
1.	9.	Rusko	17 075 200	140 048 433	↓ 139 390 205
2.	15.	Německo	357 021	82 332 387	↓ 82 282 988
3.	21.	Francie	643 427	63 720 076	↑ 64 057 792
4.	22.	Spojené království	244 820	61 113 688	↑ 61 284 806
5.	23.	Itálie	301 230	58 137 191	↓ 58 090 681
6.	27.	Ukrajina	603 700	45 698 929	↓ 45 415 596
7.	32.	Španělsko	504 782	40 528 489	↑ 40 548 753
8.	34.	Polsko	312 685	38 482 930	↓ 38 463 689
9.	53.	Rumunsko	237 500	22 215 421	↓ 21 959 278
10.	59.	Nizozemsko	41 526	16 850 000	↓ 16 783 092
14.	84.	Česká republika	78 866	10 489 200	↑ 10 515 800

Největší státy Evropy (podle hustoty obyvatel, 2002):

pořadí	stát	hustota obyvatel na km ²	rozloha	počet obyvatel
1.	 Monako	16 000	2	31 987
2.	 Gibraltar (UK)	5 000	6	27 714
3.	 Vatikán	2 000	0.44	900
4.	 Malta	1 260	316	397 499
5.	 Guernsey (UK)	830	78	64 587
6.	 Jersey (UK)	774	116	89 775
7.	 San Marino	455	61	27 730
8.	 Nizozemsko	393	41 526	16 746 600
9.	 Belgie	337	30 510	10 274 595
10.	 Spojené království	244	244 820	60 587 000
11.	 Německo	233	357 021	82 217 800
12.	 Lichtenštejsko	205	160	32 842
13.	 Itálie	192	301 230	59 715 625
14.	 Švýcarsko	177	41 290	7 301 994
15.	 Lucembursko	173	2 586	512 000
18.	 Česká republika	130	78 866	10 674 947

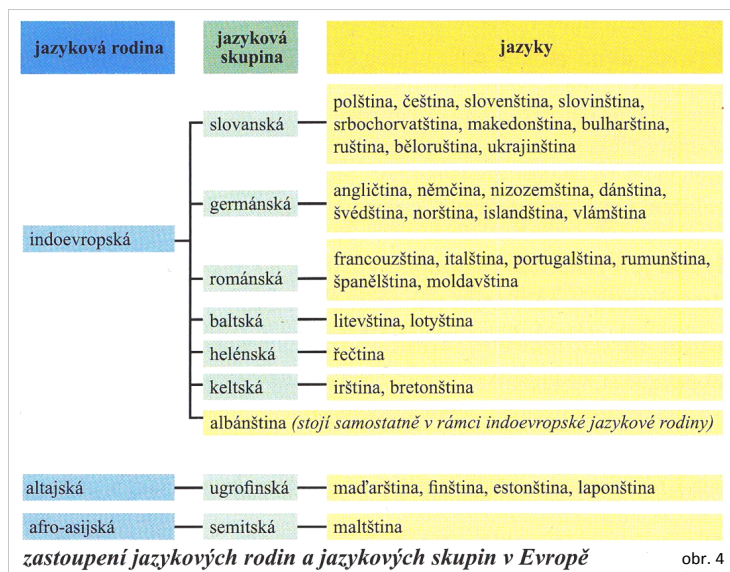
NÁRODY, JAZYKY A NÁBOŽENSTVÍ

V Evropě žije **asi 50 národů**.

Velká část obyvatel žije ve svém **národním státě** – počet obyvatel určité národnosti přesahuje 90% (např. ČR, Portugalsko, Norsko) X **mnohonárodnostní stát** (např. Velká Británie, Francie, Německo).

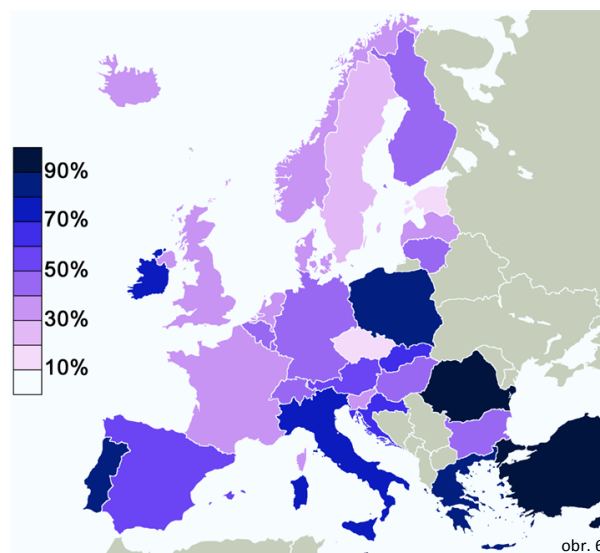
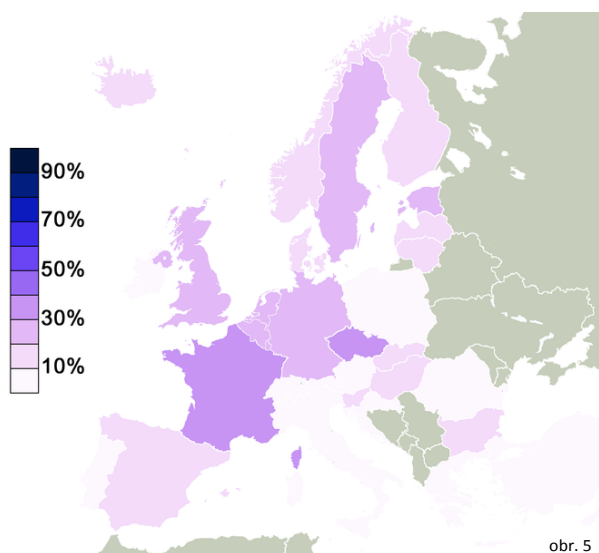
Většina obyvatel Evropy patří k **indoevropské jazykové rodině**.

Nejpočetnější **jazykovou skupinou** z této rodiny jsou **Slované**, kteří mluví **slovanskými jazyky**.



V Evropě jsou rozšířena především **západní náboženství**, tj. **křesťanství, islám a judaismus**.

Velký počet obyvatelstva jsou ateisté nebo lidé bez náboženského vyznání.



Jsou mapy stejné? Která znázorňuje počet věřících a která počet lidí bez náboženského vyznání v jednotlivých zemích? Své tvrzení zdůvodni.

1. křesťanství – rozděleno na 3 základní církve:


a) **katolická církev** – západní a střední Evropa

b) **protestantská (evangelická) církev** – severní Evropa a Velká Británie

c) **pravoslavná církev** – východní Evropa, Balkánský poloostrov

2. islám – Bosna a Hercegovina, Albánie, evropská část Turecka

3. judaismus – národní náboženství Židů – v Evropě asi 4,5 milionu Židů



Istanbul, Modrá mešita

Plzeň, synagoga

Povýšení sv. Kříže, katolický kostel

Moskva, pravoslavný kostel

Kostel Českobratrské církve evangelické v Kolíně

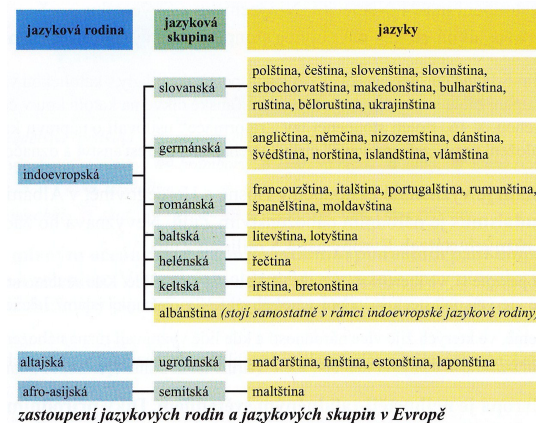
ZÁPIS

OBYVATELSTVO A SÍDLA EVROPY

- **přes 700 mil. obyvatel** (třetí nejlidnatější světadí)l)
- **nejvyšší průměrná hustota zalidnění** (67 obyv./km²), nerovnoměrné osídlení
- asi **3/5 obyvatel žije ve městech**
- pokles přirozeného přírůstku obyvatelstva, přistěhovalectví
- **největší státy:** Rusko, Německo, Francie, Spojené království, Itálie
- **největší města:** Moskva, Londýn, St. Petersburg, Berlín, Madrid

NÁRODY, JAZYKY A NÁBOŽENSTVÍ

- v Evropě žije **asi 50 národů**
- **národní stát** (více než 90% obyvatel určité národnosti – ČR, Portugalsko, Norsko)
X **mnohonárodnostní stát** (např. Velká Británie, Francie, Německo).
- většina obyvatel patří k **indoevropské jazykové rodině**



Náboženství

1. **křesťanství** – rozděleno na 3 základní církve:
 - a) katolická církev – západní a střední Evropa
 - b) protestantská (evangelická) církev – severní Evropa a Velká Británie
 - c) pravoslavná církev – východní Evropa, Balkánský poloostrov
2. **islám** – Bosna a Hercegovina, Albánie, evropská část Turecka
3. **judaismus** – národní náboženství Židů – v Evropě asi 4,5 milionu Židů

Velký počet obyvatelstva ateisté a lidé bez náboženského vyznání.

POUŽITÉ ZDROJE

- obr. 1** http://commons.wikimedia.org/wiki/File:Blank_map_Europe_without_borders.png
obr. 2 http://commons.wikimedia.org/wiki/File:Europe_population_map_countries.PNG
obr. 3 http://en.wikipedia.org/wiki/File:Europa-bei-nacht_1-1024x768.jpg
obr. 4 učebnice Zeměpis 1. díl Evropa, Nová škola
obr. 5 http://cs.wikipedia.org/wiki/Soubor:Europe_No_Belief.png
obr. 6 http://upload.wikimedia.org/wikipedia/commons/4/47/Europe_belief_in_god.svg
obr. 7 [http://www.rusava.cz/index.php?](http://www.rusava.cz/index.php?main_m=a3VsdHVyYQ==&sub_m=cGFtYXRreV9vYmNlX2FbGlkb3ZhX2FyY2hpdGVrdHVyYQ==)
obr. 8 [http://www.rusava.cz/index.php?](http://www.rusava.cz/index.php?main_m=a3VsdHVyYQ==&sub_m=cGFtYXRreV9vYmNlX2FbGlkb3ZhX2FyY2hpdGVrdHVyYQ==)
obr. 9 <http://www.topzine.cz/wp-content/uploads/2011/01/pravoslavny-kostel.jpg>
obr. 10 http://upload.wikimedia.org/wikipedia/commons/8/8a/Kostel_%C4%8Ceskobratrsk%C3%A9_c%C3%ADrke_evangelick%C3%A9_v_Kol%C3%ADn%C4%9B.jpg
obr. 11 http://www.jewish-route.eu/mesta/01_plzen/plzen.htm

http://www.geohive.com/earth/pop_top50.aspx

http://www.citymayors.com/features/euro_cities1.html

http://en.wikipedia.org/wiki/Area_and_population_of_European_countries

Hübelová D., Chalupa P.: *Zeměpis pro 8. ročník, 1. díl Evropa*, Nová škola, 2009.

evangelický kostel Nove mesto na Morave

evangelicky kostel Nove mesto na Morave