



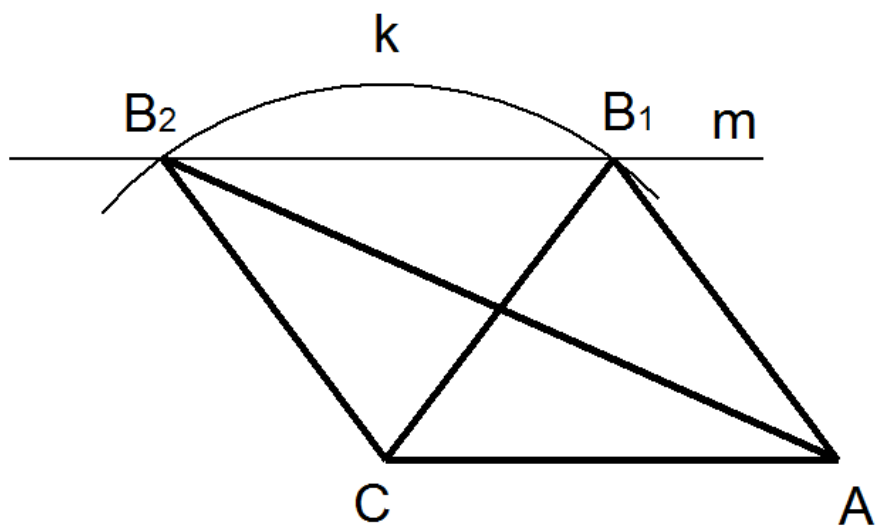
Konstrukce trojúhelníků domácí příprava

1. Sestroj trojúhelník ABC, je-li zadáno: $b = 6$ cm; $|CB| = 50$ mm; $v_b = 4$ cm.
Nezapomeň na všechny části konstrukční úlohy.
2. Sestroj trojúhelník ABC, je-li zadáno: $a = 5$ cm; $\gamma = 60^\circ$; poloměr kružnice opsané $r = 3$ cm. Nezapomeň na všechny části konstrukční úlohy.
3. Sestroj trojúhelník ABC, je-li zadáno: $b = 6$ cm; $t_b = 50$ mm; $v_b = 4$ cm.
Nezapomeň na všechny části konstrukční úlohy.
4. Sestroj trojúhelník ABC, je-li zadáno: $c = 5$ cm; $t_a = 45$ mm; $t_c = 6$ cm.
Nezapomeň na všechny části konstrukční úlohy.
5. Sestroj trojúhelník KLM je-li dáno: $m = 5$ cm; $v_k = 4$ cm; $t_m = 4,5$ cm. Nezapomeň na všechny části konstrukční úlohy.
6. Sestroj trojúhelník RST je-li dáno: $s = 4$ cm; $v_t = 3$ cm; $|\sphericalangle RTS| = 30^\circ$. Nezapomeň na všechny části konstrukční úlohy.
7. Sestroj trojúhelník XYZ je-li dáno: $z = 6$ cm; $t_y = 5$ cm; $|\sphericalangle YXZ| = 45^\circ$. Nezapomeň na všechny části konstrukční úlohy.
8. Sestroj trojúhelník ABC, je-li zadáno: $c = 6$ cm; $t_c = 20$ mm; $\alpha = 30^\circ$.
Nezapomeň na všechny části konstrukční úlohy.

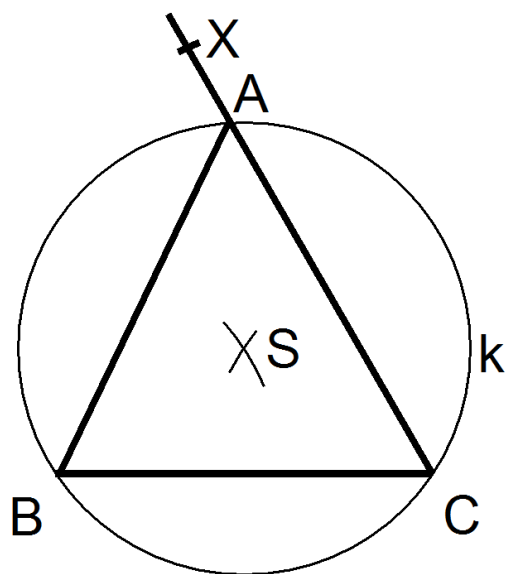
Konstrukce trojúhelníků domácí příprava

Výsledky

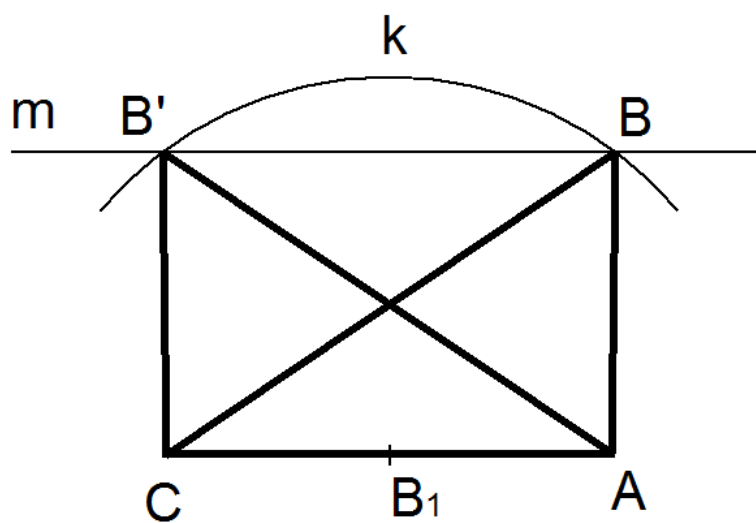
1. 2 řešení



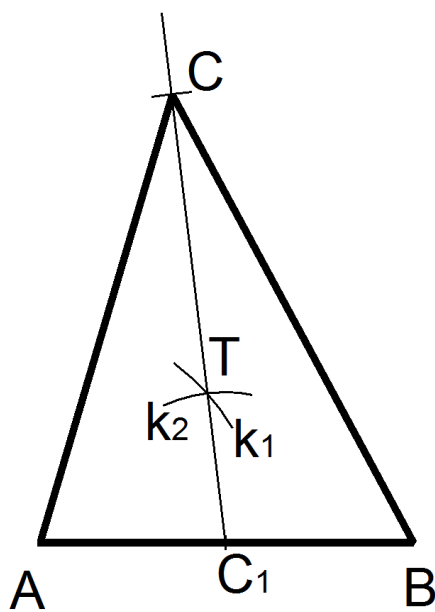
2. 1 řešení



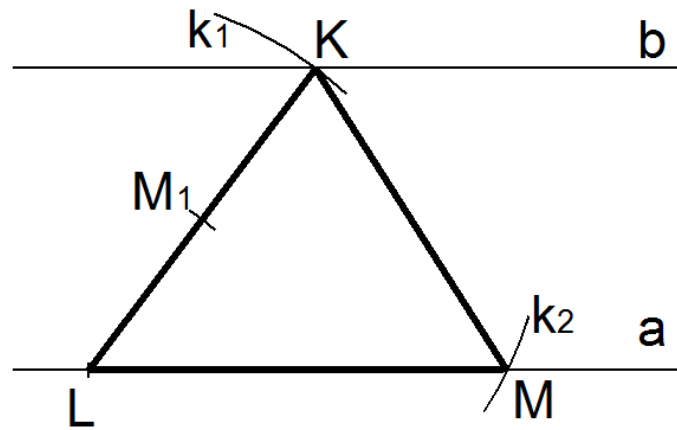
3. 2 řešení



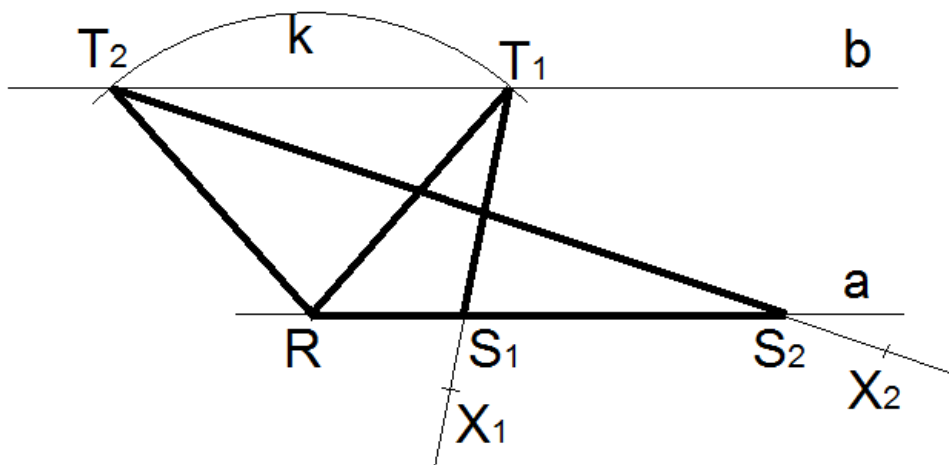
4. 1 řešení



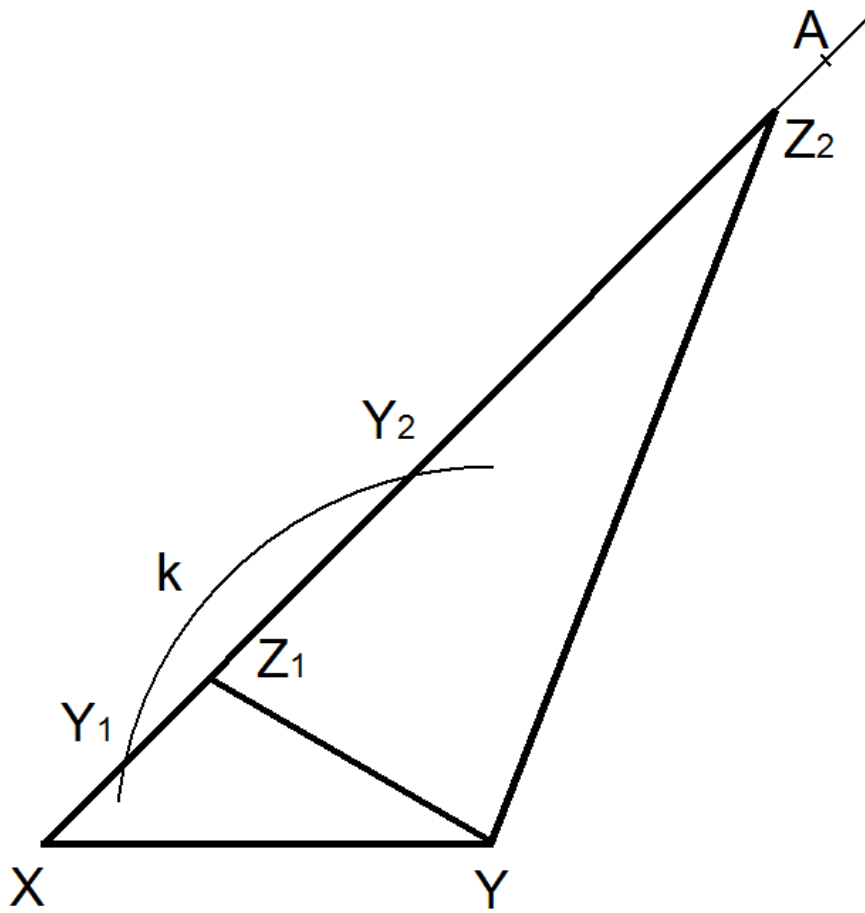
5. 1 řešení



6. 2 řešení



7. 2 řešení



8. 2 řešení

