



Opakování – geometrie
domácí příprava

1. Rýsuj podle zápisu.

- 1) p
- 2) $M; M \in p$
- 3) $N; N \notin p$
- 4) $n; N \in n; n \parallel p$
- 5) $k; M \in k; k \perp p$

2. Rýsuj podle zápisu.

- 1) a
- 2) $A; A \in a$
- 3) $B; B \in a; |AB| = 7 \text{ cm}$
- 4) $S; S \in a; |AS| = |SB|$

3. Rýsuj podle zápisu.

- 1) R
- 2) $k(R; 3 \text{ cm})$
- 3) $a; R \in a$
- 4) $A; A \in a \cap k$
- 5) $b; A \in b; b \perp a$

4. Narýsuj čtverec ABCD se stranou $a = 5 \text{ cm}$. Nezapomeň na jednotlivé části konstrukční úlohy.

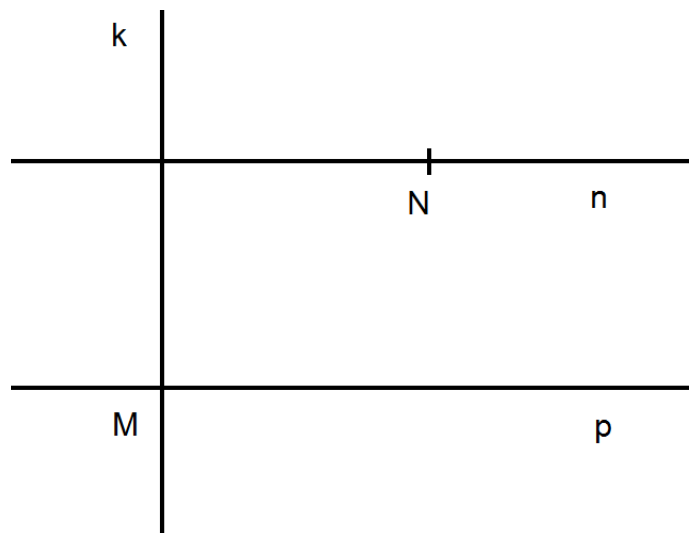
5. Narýsuj obdélník ABCD se stranami $a = 7 \text{ cm}$, $b = 4 \text{ cm}$. Nezapomeň na jednotlivé části konstrukční úlohy.

Opakování – geometrie

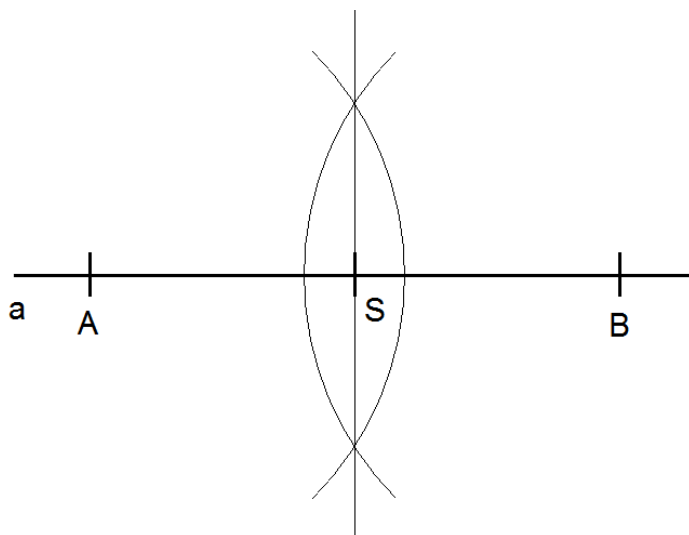
domácí příprava

Výsledky

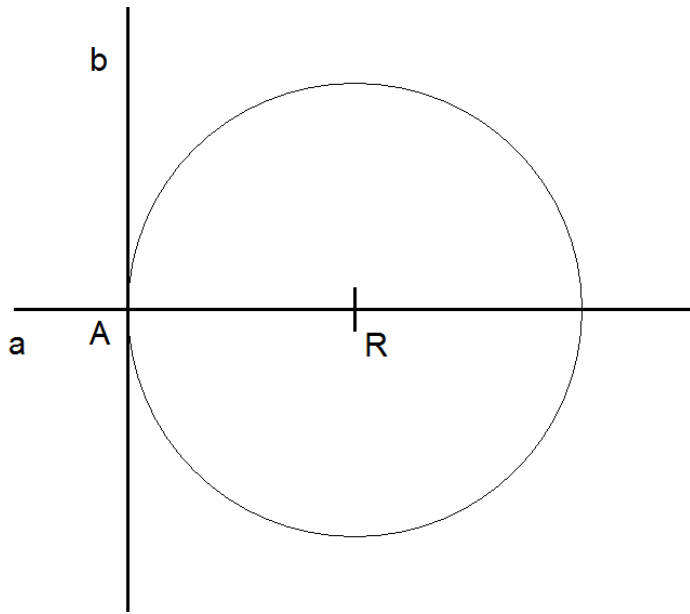
1.



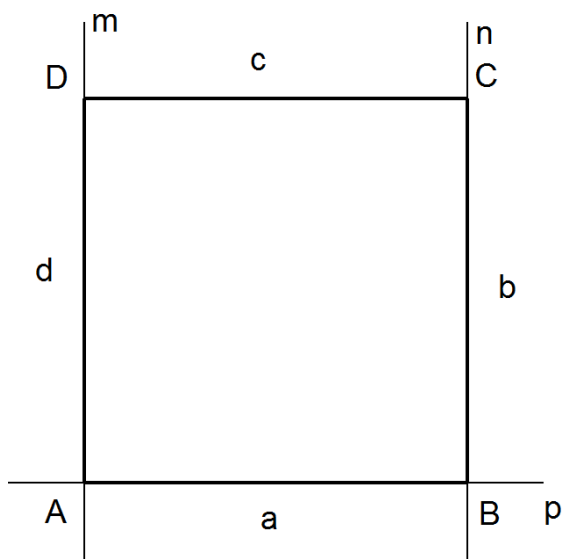
2.



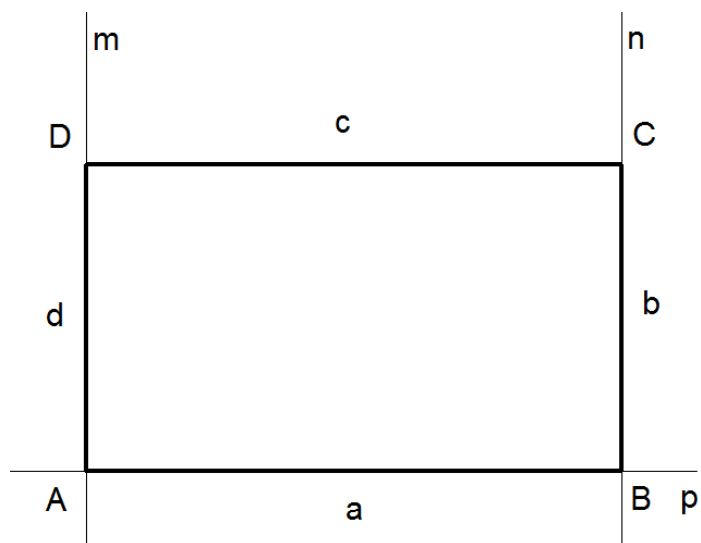
3.



4.



5.



součástí příkladů 4. a 5. je:

- zápis zadání
- rozbor s náčrtkem
- konstrukce