


Průmyslová revoluce zásadně změnila život lidí. Který z následujících jevů byl jejím přímým a nejvýraznějším důsledkem v 19. století?

- a) masivní stěhování lidí z venkova do měst
- b) zánik drobných zemědělských usedlostí a následné problémy se zásobováním obyvatelstva zemědělskými produkty
- c) zrušení všech rozdílů mezi společenskými vrstvami
- d) výrazné omezení zámořského obchodu kvůli rozvoji lokální výroby



Během Velké francouzské revoluce byl vydán dokument *Deklarace práv člověka a občana*. Co bylo jeho hlavním cílem?

- a) posílení absolutní moci panovníka nad všemi poddanými
- b) stanovení rovnosti všech lidí před zákonem a zrušení privilegií
- c) zákaz jakéhokoli náboženského vyznání na území Francie
- d) zavedení povinné vojenské služby pro ženy i muže



Rok 1848 je v Evropě znám jako „jaro národů“. Co bylo společným jmenovatelem většiny těchto povstání?

- a) snaha o sjednocení Evropy do jednoho velkého státu pod vládou papeže
- b) boj za ústavu, občanské svobody a v mnoha případech i za národní sebeurčení
- c) požadavek na úplný návrat k feudálnímu systému
- d) podpora absolutistických monarchií v boji proti parlamentům



Říjnová revoluce v Rusku (1917) vedla k nastolení zcela nového typu režimu. Jak se tento převrat lišil od demokratických revolucí?

- a) zavedl vládu jedné strany a postupně omezil veškeré demokratické svobody
- b) okamžitě po převratu zavedl svobodné volby pro všechny občany
- c) obnovil moc cara a šlechty, aby zajistil stabilitu země
- d) soustředil se výhradně na náboženskou reformu pravoslavné církve



V roce 1968 proběhl v Československu pokus o reformu komunistického systému známý jako „pražské jaro“. Jakým způsobem byl tento proces ukončen?

- a) vítězstvím reformistů ve svobodných parlamentních volbách
- b) vojenskou intervencí vojsk Varšavské smlouvy v srpnu 1968
- c) dobrovolným odstoupením Alexandra Dubčeka a rozpuštěním KSČ
- d) rozdělením Československé republiky na dva samostatné státy



Když studenti vyrazili 17. listopadu 1989 na povolený pochod z Albertova na Vyšehrad, bylo jejich cílem uctění památky studenta, který zemřel na podzim 1939 během nacistické okupace. Čí památku chtěli uctít na vyšehradském hřbitově?

- a) Josef Adamec
- b) Václav Sedláček
- c) František Skorkovský
- d) Jan Opletal



Pojem „digitální revoluce“ označuje změny na přelomu 20. a 21. století. V čem spočívá její hlavní historický význam pro společnost?

- a) v zavedení elektřiny do domácností a následné automatizaci těžkého průmyslu
- b) v zásadní proměně způsobu šíření informací, komunikace a práce díky technologiím
- c) v přechodu od analogových médií k mechanickým výpočetním systémům bez využití internetu
- d) v nahrazení lidské práce ve službách robotizací



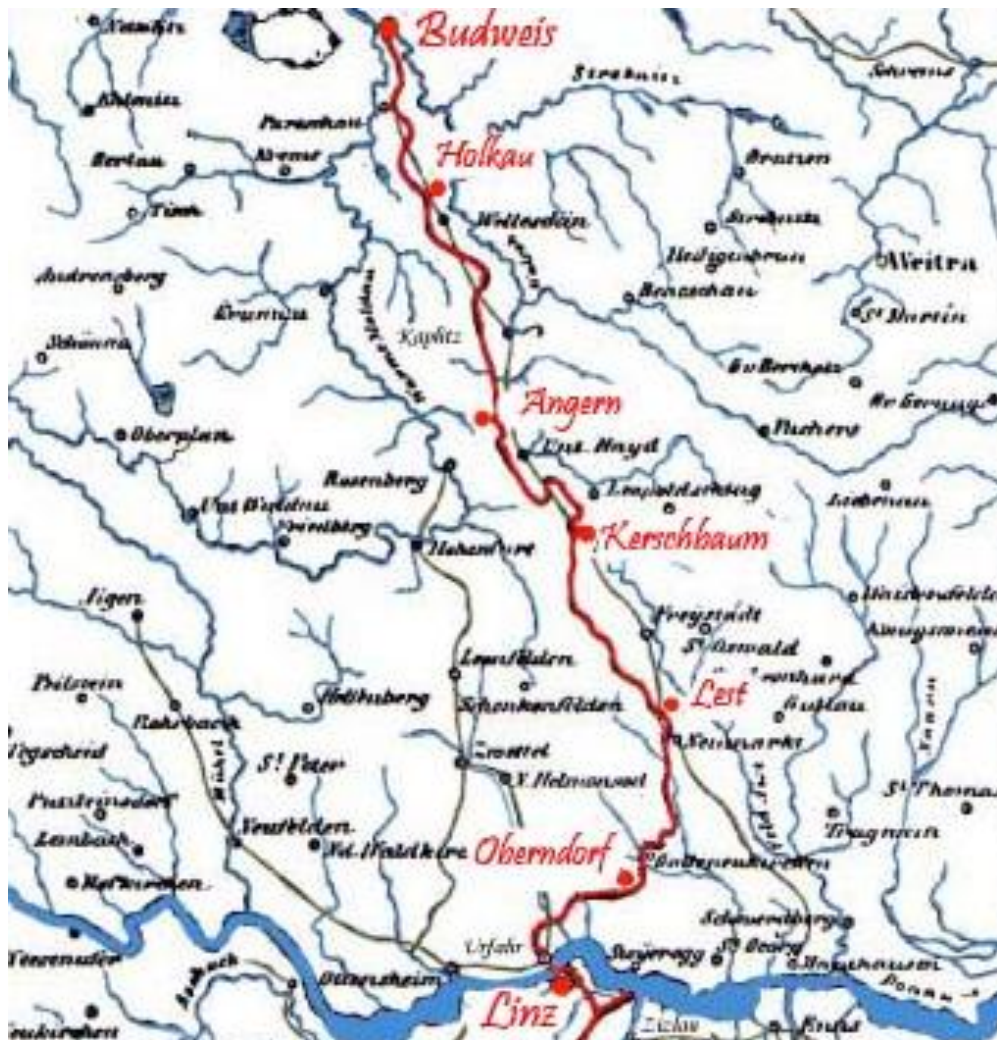
Počátkem 20. století se ve světovém umění setkáváme s multiperspektivností, tedy s nahlížením skutečnosti z více úhlů pohledu. Přestože se s tímto přístupem setkáváme i v literatuře, reprezentativní literární díla v daném stylu nevznikala. Masově se daný směr prosadil v užitém umění, architektuře a malířství, v nichž byla skutečnost zobrazovaná pomocí jednoduchých geometrických tvarů. O jaký styl se jedná?



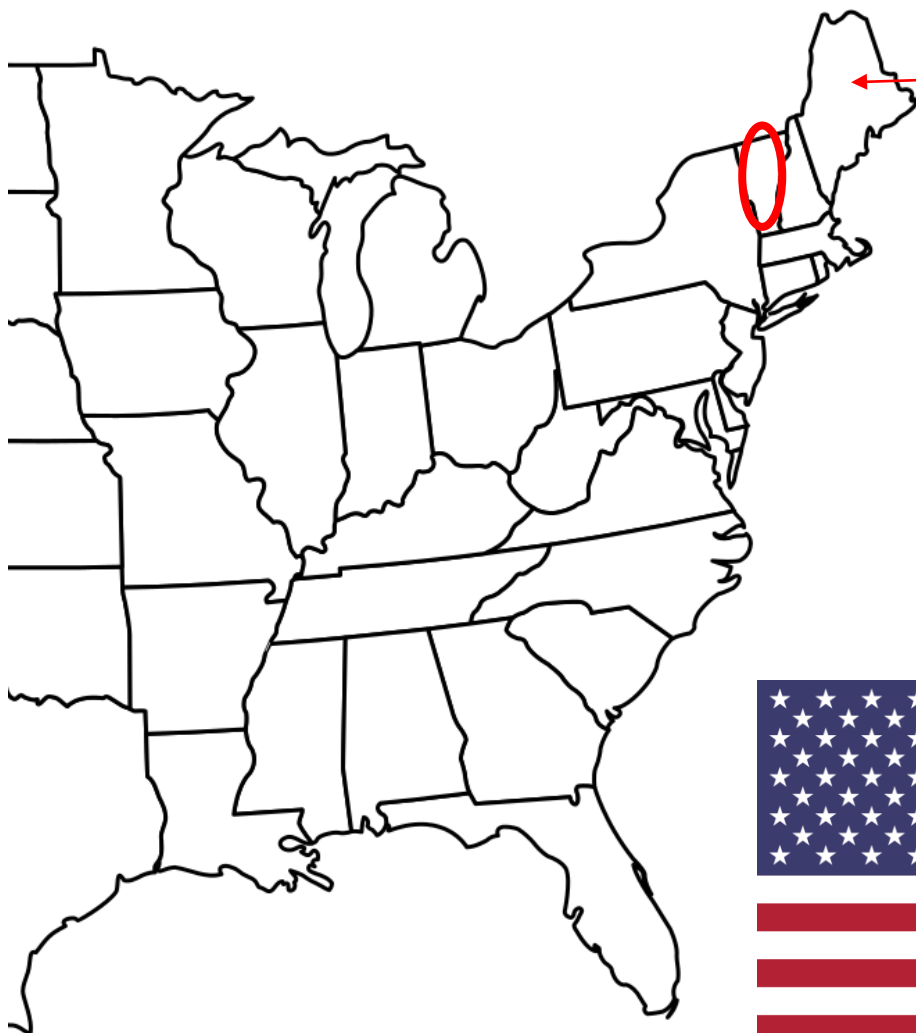
Chronogram je způsob datace užívaný v architektuře či obecně v umění. Spočívá v součtu číselných hodnot zvýrazněných římských čísel v krátkém latinském textu. Určete letopočet v chronogramu na obrázku.



V 70. letech 20. století byl český úsek této železnice prohlášen za národní kulturní památku. Do provozu byla uvedena na přelomu 20. a 30. let 19. století. Byla nejdelší tratí svého druhu. Z dnešního pohledu je kuriózní, jakou silou byly po ní vozy přepravovány. Jak se tato železnice nazývá? Česky запиšte, která dvě města tato trať spojovala a co se po ní převážně dopravovalo do českých zemí.



Ve slepé mapě Spojených států vybarvěte všechny původní státy, které roku 1776 vyhlásily nezávislost na Velké Británii. Jejich počet můžete odvodit i ze současné symboliky této země. Původní státy vybarvěte celé, i když ve výše zmíněném roce se jejich rozloha od té současné lišila. Drobná nápověda na závěr: Vermont – v zadání **označený** – původním státem nebyl.



Toto území automaticky celé vybarvěte. Jedná se o stát Maine, který sice vznikl až r. 1820, avšak oddělením od jiného státu, který byl původní kolonií. Do celkového počtu území, která máte vybarvit, jej počítat nebudete.



Jedná se o bitvu husitských válek, jejíž lokace prošla celou řadou změn. Pražský vrch, který byl původně vinicí, se po vzniku republiky stal místem, na němž byl vystavěn funkcionalistický památník legionářů. V 50. letech se jednalo o poutní místo československých komunistů, protože zde ve skleněné rakvi spočinulo nabalzamované tělo Klementa Gottwalda. Nyní je objekt součástí Armádního muzea Žižkov, jež je součástí Vojenského historického ústavu.



Revoluce jsou záležitostí i tohoto století. V listopadu 2004 započaly v jedné z bývalých sovětských republik demonstrace proti průběhu prezidentských voleb, které vyhrál kandidát podporovaný zejména ruskojazyčným obyvatelstvem. Výsledkem protestů bylo opakování druhého kola voleb, v němž zvítězil kandidát podporující prozápadní směřování dané země. Jak se tato revoluce nazývá a v jaké zemi k ní došlo.



Po občanské válce přestala tato jihoevropská země být republikou. K moci se však nevrátil král Alfons XIII. (vlevo), který pobýval v italském exilu. Vlady se chopil generál, který byl hlavou státu do poloviny 70. let 20. století, ačkoliv země byla formálně opět královstvím. Uvedte celé jméno diktátora (A; uprostřed), název země, již vládl (B), a počet let trvání diktatury (C). Tento vůdce ještě před svou smrtí ustanovil za svého nástupce potomka výše zmíněného krále Alfonse. Uvedte celé jeho jméno i příbuzenský vztah, který mezi oběma králi byl.



Spojené království je v současnosti konstituční monarchií, a to již několik staletí. Samotná Anglie však po občanské válce nakrátko státní zřízení změnila. Uveďte celé jméno člověka, který stál v čele Anglie. Ve kterém století to bylo a v jakém státním zřízení stát fungoval? V posledních pěti letech užíval vládce titulu *lord protektor*. Napište jednoslovný překlad druhého slova z tohoto titulu.

