


Průmyslová revoluce zásadně změnila život lidí. Který z následujících jevů byl jejím přímým a nejvýraznějším důsledkem v 19. století?

a) masivní stěhování lidí z venkova do měst

b) zánik drobných zemědělských usedlostí a následné problémy se zásobováním obyvatelstva zemědělskými produkty

c) zrušení všech rozdílů mezi společenskými vrstvami

d) výrazné omezení zámořského obchodu kvůli rozvoji lokální výroby



Během Velké francouzské revoluce byl vydán dokument *Deklarace práv člověka a občana*. Co bylo jeho hlavním cílem?

- a) posílení absolutní moci panovníka nad všemi poddanými
- b) stanovení rovnosti všech lidí před zákonem a zrušení privilegií**
- c) zákaz jakéhokoli náboženského vyznání na území Francie
- d) zavedení povinné vojenské služby pro ženy i muže



Rok 1848 je v Evropě znám jako „jaro národů“. Co bylo společným jmenovatelem většiny těchto povstání?

a) snaha o sjednocení Evropy do jednoho velkého státu pod vládou papeže

b) boj za ústavu, občanské svobody a v mnoha případech i za národní sebeurčení

c) požadavek na úplný návrat k feudálnímu systému

d) podpora absolutistických monarchií v boji proti parlamentům



Říjnová revoluce v Rusku (1917) vedla k nastolení zcela nového typu režimu. Jak se tento převrat lišil od demokratických revolucí?

a) zavedl vládu jedné strany a postupně omezil veškeré demokratické svobody

b) okamžitě po převratu zavedl svobodné volby pro všechny občany

c) obnovil moc cara a šlechty, aby zajistil stabilitu země

d) soustředil se výhradně na náboženskou reformu pravoslavné církve



V roce 1968 proběhl v Československu pokus o reformu komunistického systému známý jako „pražské jaro“. Jakým způsobem byl tento proces ukončen?

- a) vítězstvím reformistů ve svobodných parlamentních volbách
- b) vojenskou intervencí vojsk Varšavské smlouvy v srpnu 1968**
- c) dobrovolným odstoupením Alexandra Dubčeka a rozpuštěním KSČ
- d) rozdělením Československé republiky na dva samostatné státy



Když studenti vyrazili 17. listopadu 1989 na povolený pochod z Albertova na Vyšehrad, bylo jejich cílem uctění památky studenta, který zemřel na podzim 1939 během nacistické okupace. Čí památku chtěli uctít na vyšehradském hřbitově?

- a) Josef Adamec
- b) Václav Sedláček
- c) František Skorkovský
- d) Jan Opletal



Pojem „digitální revoluce“ označuje změny na přelomu 20. a 21. století. V čem spočívá její hlavní historický význam pro společnost?

a) v zavedení elektřiny do domácností a následné automatizaci těžkého průmyslu

b) v zásadní proměně způsobu šíření informací, komunikace a práce díky technologiím

c) v přechodu od analogových médií k mechanickým výpočetním systémům bez využití internetu

d) v nahrazení lidské práce ve službách robotizací



Počátkem 20. století se ve světovém umění setkáváme s multiperspektivností, tedy s nahlížením skutečnosti z více úhlů pohledu. Přestože se s tímto přístupem setkáváme i v literatuře, reprezentativní literární díla v daném stylu nevznikala. Masově se daný směr prosadil v užitém umění, architektuře a malířství, v nichž byla skutečnost zobrazovaná pomocí jednoduchých geometrických tvarů. O jaký styl se jedná?

kubismus



Chronogram je způsob datace užívaný v architektuře či obecně v umění. Spočívá v součtu číselných hodnot zvýrazněných římských čísel v krátkém latinském textu. Určete letopočet v chronogramu na obrázku.

1733

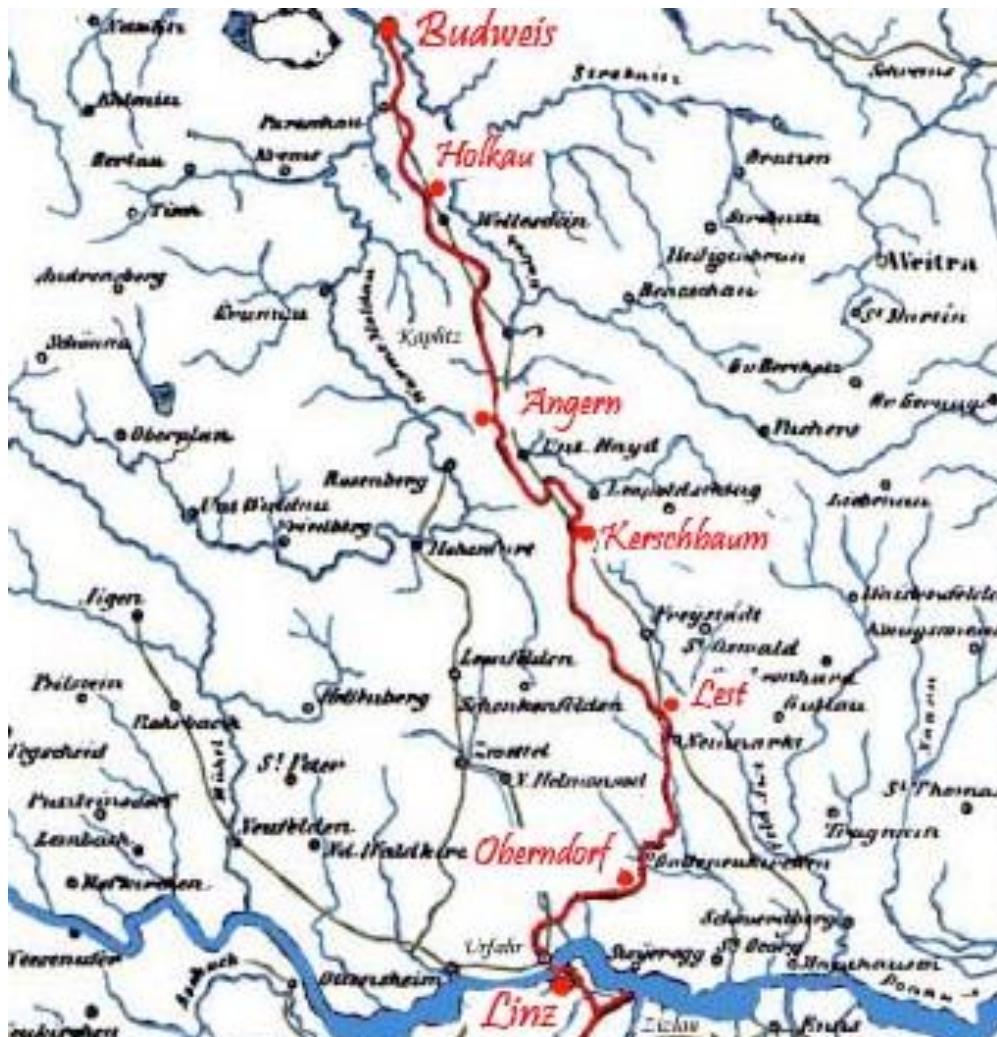


V 70. letech 20. století byl český úsek této železnice prohlášen za národní kulturní památku. Do provozu byla uvedena na přelomu 20. a 30. let 19. století. Byla nejdelší tratí svého druhu. Z dnešního pohledu je kuriózní, jakou silou byly po ní vozy přepravovány. Jak se tato železnice nazývá? Česky запиšte, která dvě města tato trať spojovala a co se po ní převážně dopravovalo do českých zemí.

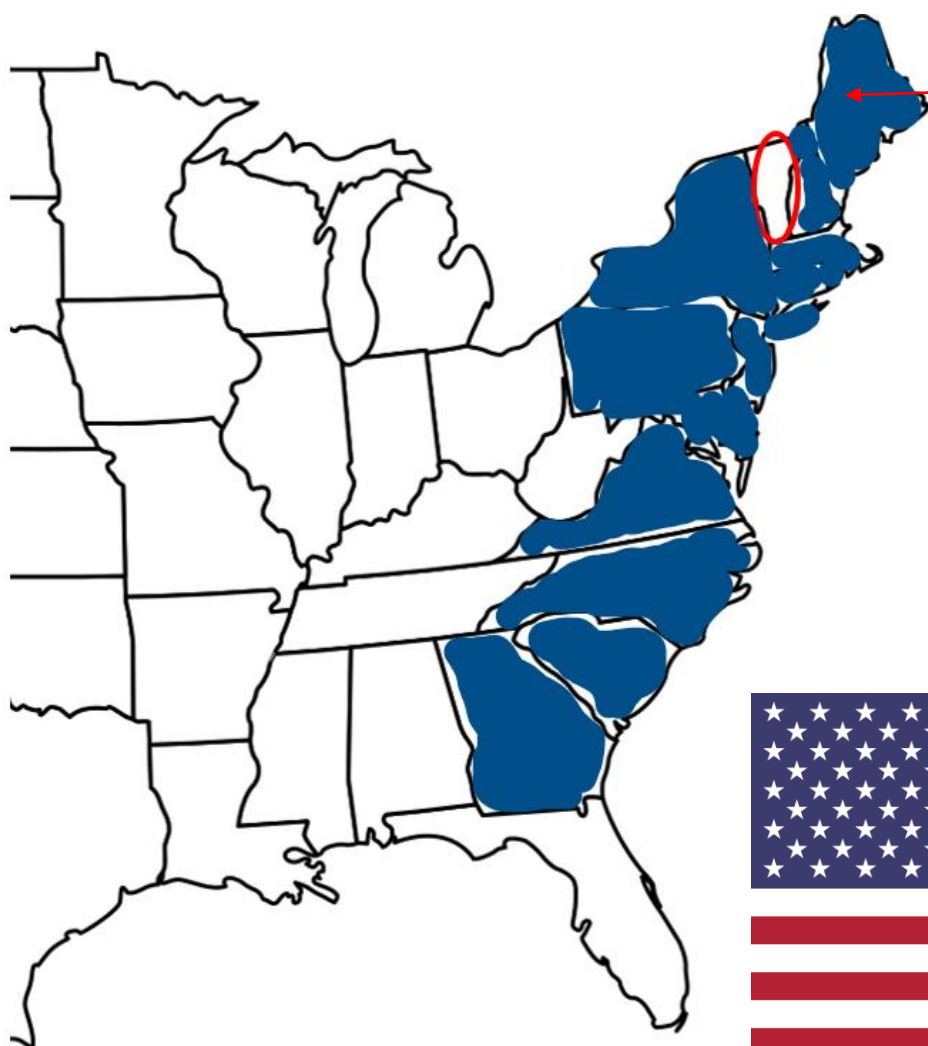
koněspřežná/koňská

České Budějovice a Linec

sůl



Ve slepé mapě Spojených států vybarvěte všechny původní státy, které roku 1776 vyhlásily nezávislost na Velké Británii. Jejich počet můžete odvodit i ze současné symboliky této země. Původní státy vybarvěte celé, i když ve výše zmíněném roce se jejich rozloha od té současné lišila. Drobná nápověda na závěr: Vermont – v zadání **označený** – původním státem nebyl.



Toto území automaticky celé vybarvěte. Jedná se o stát Maine, který sice vznikl až r. 1820, avšak oddělením od jiného státu, který byl původní kolonií. Do celkového počtu území, která máte vybarvit, jej počítat nebudete.



Jedná se o bitvu husitských válek, jejíž lokace prošla celou řadou změn. Pražský vrch, který byl původně vinicí, se po vzniku republiky stal místem, na němž byl vystavěn funkcionalistický památník legionářů. V 50. letech se jednalo o poutní místo československých komunistů, protože zde ve skleněné rakvi spočinulo nabalzamované tělo Klementa Gottwalda. Nyní je objekt součástí Armádní muzea Žižkov, jež je součástí Vojenského historického ústavu.

bitva na Vítkově



Revoluce jsou záležitostí i tohoto století. V listopadu 2004 započaly v jedné z bývalých sovětských republik demonstrace proti průběhu prezidentských voleb, které vyhrál kandidát podporovaný zejména ruskojazyčným obyvatelstvem. Výsledkem protestů bylo opakování druhého kola voleb, v němž zvítězil kandidát podporující prozápadní směřování dané země. Jak se tato revoluce nazývá a v jaké zemi k ní došlo.

oranžová

Ukrajina



Po občanské válce přestala tato jihoevropská země být republikou. K moci se však nevrátil král Alfons XIII. (vlevo), který pobýval v italském exilu. Vlady se chopil generál, který byl hlavou státu do poloviny 70. let 20. století, ačkoliv země byla formálně opět královstvím. Uvedte celé jméno diktátora (A; uprostřed), název země, jíž vládl (B), a počet let trvání diktatury (C). Tento vůdce ještě před svou smrtí ustanovil za svého nástupce potomka výše zmíněného krále Alfonse. Uvedte celé jeho jméno i příbuzenský vztah, který mezi oběma králi byl.

A) Francisco Franco; B) Španělsko; C) 36 let

Juan Carlos I./Jan Karel I.

děd(a)–vnuk



Spojené království je v současnosti konstituční monarchií, a to již několik staletí. Samotná Anglie však po občanské válce nakrátko státní zřízení změnila. Uveďte celé jméno člověka, který stál v čele Anglie. Ve kterém století to bylo a v jakém státním zřízení stát fungoval? V posledních pěti letech užíval vládce titulu *lord protektor*. Napište jednoslovný překlad druhého slova z tohoto titulu.

Oliver Cromwell

17. století

republika

ochránce

